

ÉTUDE D'UNE FONCTION 1

On présente les premières étapes de l'étude d'une fonction numérique d'une variable réelle.

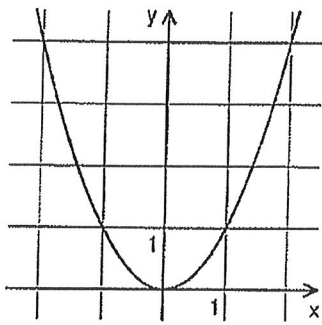
1 ENSEMBLE DE DÉFINITION

Définition :

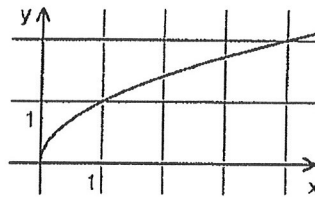
L'ensemble de définition d'une fonction f est l'ensemble des réels x pour lesquels $f(x)$ existe. On le note souvent D_f .

On dit aussi "domaine de définition".

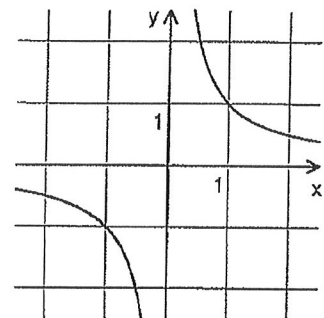
Exemples :



$f(x) =$



$g(x) =$



$h(x) =$

La fonction f est définie pour tout x : $D_f =$

De même, l'ensemble de définition de toute fonction polynôme est

La fonction g n'est pas définie pour : $D_g =$

Pour qu'une racine carrée existe il faut que

La fonction h n'est pas définie pour : $D_h =$

De même, toute fonction rationnelle (quotient de deux fonctions polynômes) a pour ensemble de définition \mathbb{R} privé des valeurs de x qui

2 DOMAINE D'ÉTUDE

Il n'est pas toujours nécessaire d'étudier la fonction sur la totalité de son ensemble de définition.

Parité :

Une fonction numérique f , d'ensemble de définition D_f , est **paire** si et seulement si pour tout $x \in D_f$, $-x \in D_f$ et $f(-x) =$

Une fonction numérique f , d'ensemble de définition D_f , est **impaire** si et seulement si pour tout $x \in D_f$, $-x \in D_f$ et $f(-x) =$

La courbe représentative d'une fonction paire (par exemple $x \mapsto x^2$) est symétrique par rapport à

La courbe représentative d'une fonction impaire (par exemple $x \mapsto x^3$) est symétrique par rapport à

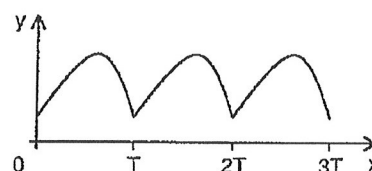
Dans les deux cas, on peut réduire le domaine d'étude à la partie positive de D_f .

Périodicité :

Une fonction f est dite **périodique**, de **période** T , si T est le plus petit réel strictement positif tel que pour tout $x \in D_f$, $x + T \in D_f$ et $f(x + T) = f(x)$.

Par exemple, les fonctions \sin et \cos sont périodiques, de période 2π .

Une fonction périodique s'étudie sur un intervalle dont la longueur est égale à la période. La courbe représentative complète de f s'obtient alors par translations répétées du motif obtenu sur l'intervalle d'étude.



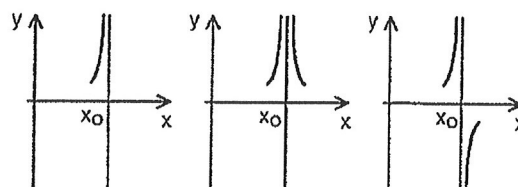
3 LIMITES AUX BORNES ET BRANCHES INFINIES

La détermination des limites aux bornes de l'ensemble de définition permet de déterminer si la courbe représentant f comporte ou non des branches infinies.

Dans cette partie, la notation ∞ désigne soit $+\infty$ soit $-\infty$.

Asymptote verticale :

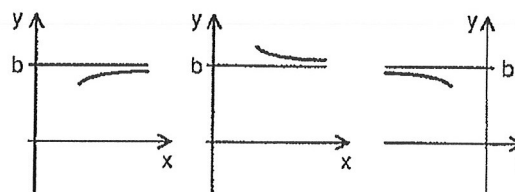
Si $\lim_{x \rightarrow x_0} f(x) = \infty$, alors la courbe représentant f admet comme asymptote verticale la droite d'équation $x = x_0$.



C'est le cas de $f(x) = \frac{1}{x}$ en $x_0 = 0$. Les limites en x_0^+ et en x_0^- peuvent être différentes.

Asymptote horizontale :

Si $\lim_{x \rightarrow \infty} f(x) = b$, alors la courbe représentant f admet comme asymptote horizontale la droite d'équation $y = b$.



C'est le cas de $x \mapsto \frac{1}{x}$ en $+\infty$ et $-\infty$ avec $b = 0$.

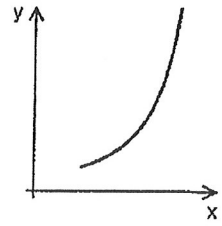
Limite infinie à l'infini :

Quand $\lim_{x \rightarrow \infty} f(x) = \infty$, la courbe présente une **branche parabolique** ou une **asymptote oblique**. Pour

le déterminer, il faut commencer par déterminer $\lim_{x \rightarrow \infty} \frac{f(x)}{x}$:

Cas 1 :

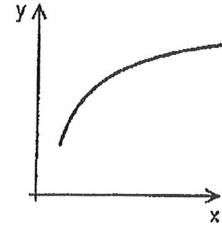
Si $\lim_{x \rightarrow \infty} f(x) = \infty$ et $\lim_{x \rightarrow \infty} \frac{f(x)}{x} = \infty$ alors la courbe représentant f admet une **branche parabolique verticale**



On peut dire que f tend vers l'infini beaucoup plus vite que $x \mapsto x$
C'est le cas de $f(x) = x^2$

Cas 2 :

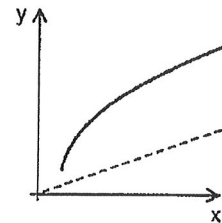
Si $\lim_{x \rightarrow \infty} f(x) = \infty$ et $\lim_{x \rightarrow \infty} \frac{f(x)}{x} = 0$ alors la courbe représentant f admet une **branche parabolique horizontale**



On peut dire que f tend vers l'infini beaucoup plus lentement que $x \mapsto x$
C'est le cas de $f(x) = \sqrt{x}$

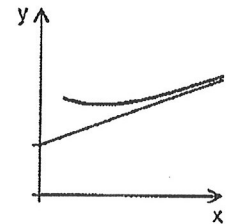
Cas 3 : Si $\lim_{x \rightarrow \infty} f(x) = \infty$ et $\lim_{x \rightarrow \infty} \frac{f(x)}{x} = a$ où a est un réel non nul, alors on ne peut pas conclure tout de suite, il faut d'abord déterminer $\lim_{x \rightarrow \infty} f(x) - ax$:

Si $\lim_{x \rightarrow \infty} f(x) = \infty$, $\lim_{x \rightarrow \infty} \frac{f(x)}{x} = a$ et $\lim_{x \rightarrow \infty} f(x) - ax = \infty$ alors la courbe représentant f admet une **branche parabolique de direction a**



C'est le cas de $f(x) = x + \sqrt{x}$ avec $a = 1$

Si $\lim_{x \rightarrow \infty} f(x) = \infty$, $\lim_{x \rightarrow \infty} \frac{f(x)}{x} = a$ et $\lim_{x \rightarrow \infty} f(x) - ax = b$ alors la courbe représentant f admet comme **asymptote oblique** la droite d'équation $y = ax + b$



C'est le cas de $f(x) = x + 1/x$ avec $a = 1$ et $b = 0$

Récapitulatif de la détermination de la nature d'une branche infinie en $+\infty$ ou en $-\infty$:

